

طبريز اور احي نوچيس
ضاحية الأميرة سلمى العبدالله
ت: ٥٠٥١٥٧٩ (٦-٩٦٢)
٥٠٥١٤٧٠ (٦-٩٦٢)

مدرسة المنار الثانوية الثانية



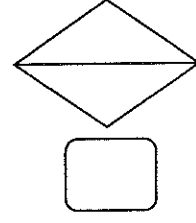
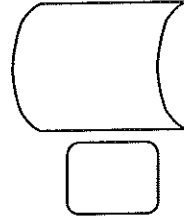
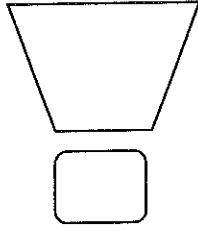
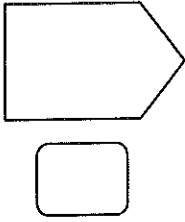
ورقة عمل لمبحث الرياضيات
ورقة عمل رقم (٢)

المملكة الأردنية الهاشمية
وزارة التربية والتعليم
مديرية التربية والتعليم الخاص/عمان
العام الدراسي ٢٠١٧/٢٠١٨

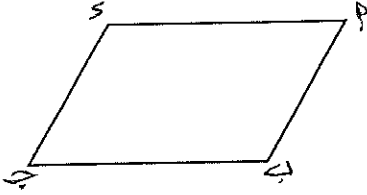
الزمن	٤٥ دقيقة
اليوم والتاريخ	

اسم الطالب**	
الصف والشعبة	الرابع أ، ب، ج، د

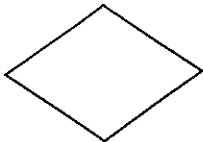
السؤال الأول ضع اشارة (✓) اسفل الشكل الرباعي و اشارة (x) اسفل الشكل غير الرباعي :



السؤال الثاني : سمّ الشكل الرباعي بجميع الطرق :



السؤال الثالث : صل بخط بين الأشكال الرباعية وإسمها :



متوازي أضلاع

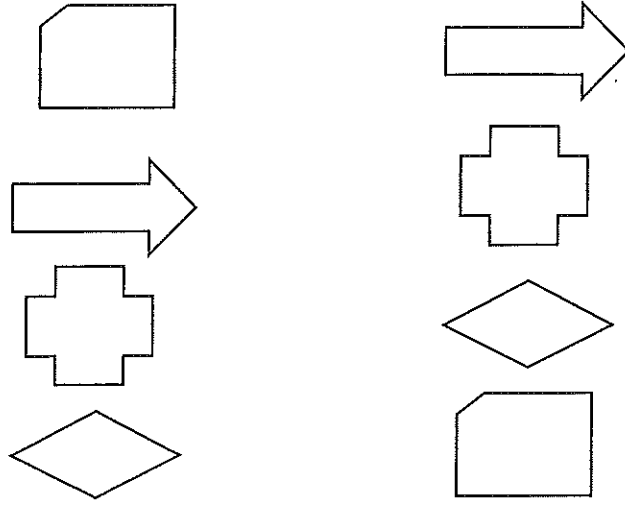
شبه منحرف

مربع

مستطيل

معين

السؤال الرابع: صل بخط بين كل شكلين متطابقين .



السؤال الخامس: اكمل الجدول التالي :

السبب	متشابهين	متطابقين	الأشكال

قسم الرياضيات
معلمة الماحة: هديل الصالح